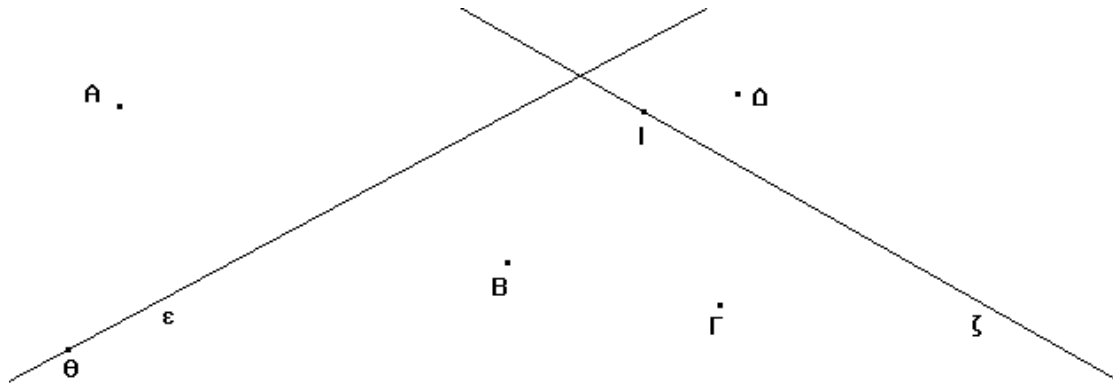
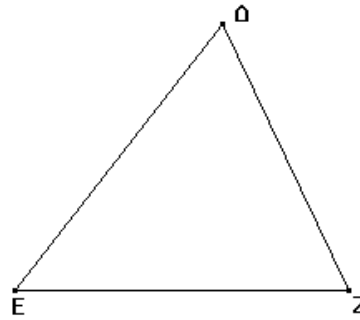
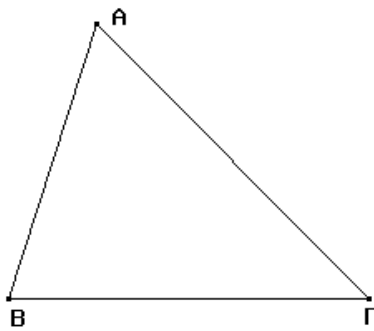


### ΕΞΑΣΚΗΣΗ ΣΕ ΥΨΗ ΚΑΙ ΑΠΟΣΤΑΣΕΙΣ - ΚΑΘΕΤΟΥΣ

Να χαράξετε τις αποστάσεις των  $A, B, \Gamma, \Delta$  από τις ευθείες  $(\epsilon)$  και  $(\zeta)$ . Στη συνέχεια να φέρετε τις καθέτους στα σημεία  $\Theta$  και  $\text{I}$  στις ευθείες  $(\epsilon)$  και  $(\zeta)$ .



Να φέρετε και να ονομάσετε τα ύψη στα τρίγωνα  $AB\Gamma$  και  $\Delta EZ$ .



Να φέρετε και να ονομάσετε τα ύψη στα τρίγωνα  $\text{ΠΡ}\Sigma$  και  $\text{ΚΛΜ}$ .

